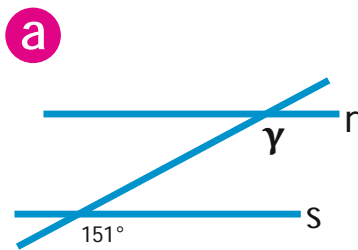


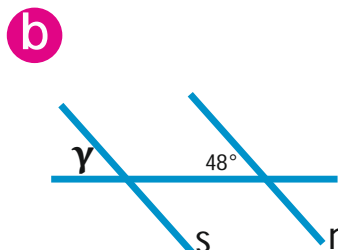
Zadania

1. Kąty odpowiadające

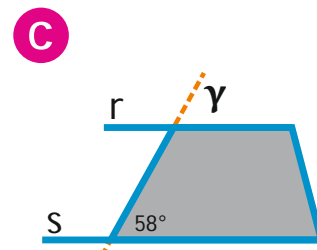
a) Proste **s** i **r** są równoległe. Oblicz miarę kąta γ .



$$\gamma = \boxed{}$$

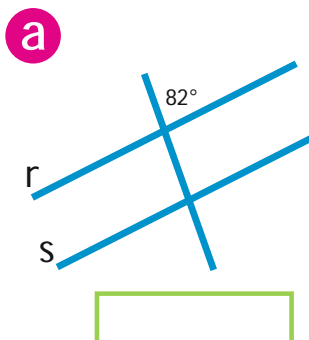


$$\gamma = \boxed{}$$

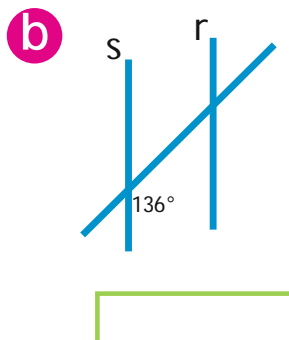


$$\gamma = \boxed{}$$

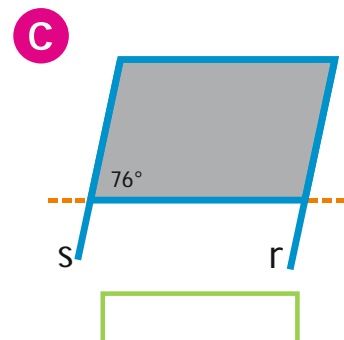
b) Proste **s** i **r** są równoległe. Zaznacz łukiem kąt odpowiadający danemu kątowi. Oblicz jego miarę.



$$\boxed{}$$



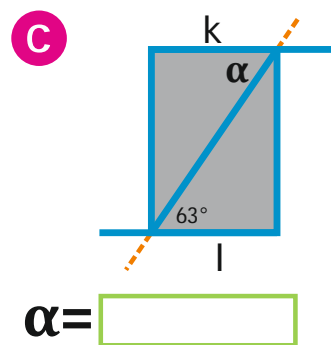
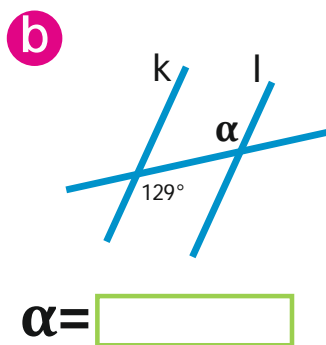
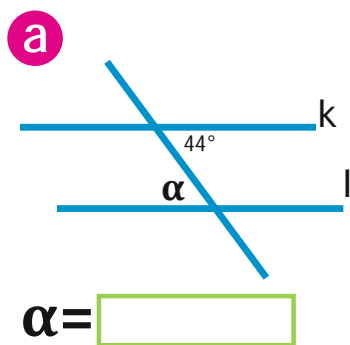
$$\boxed{}$$



$$\boxed{}$$

2. Kąty naprzemianległe

- a) Proste **k** i **l** są równoległe.
Oblicz miarę kąta α .



- b) Proste **k** i **l** są równoległe. Zaznacz łukiem kąt naprzemianległy do danego kąta.
Oblicz jego miarę.

